

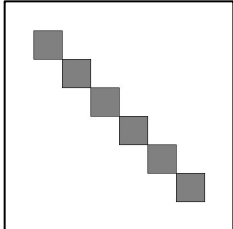





## 2013 年度情報メディア基盤ユニット


### 5 月 17 日分課題と宿題

授業関連資料は <http://www.sato-lab.jp/imfu2013> からダウンロード出来ます。授業中に配布したプリントに誤りを見つけた際には、修正版をのせてあります。問 2 以降は、出来たら先生か TA の人に確認をしてもらって下さい。

1. 本文中のサンプルプログラムを実行させよ。
2. 右欄の実行結果のように表示されるように左欄のプログラムの空欄を埋めよ。プログラムを間違える（文法的には正しくても）とうまく動作しないことがあります。

未完成プログラム	実行結果
<pre>// 線の間隔は 10、左端の直線の両端の x 座標は 5  size(200,200); background(255); stroke(255,10,10);  int x=_____; while(x _____){   line(x,0,x,height);   x = x+ _____; }</pre>	
<pre>// 円の間隔は 20、一番上の円の中心の y 座標は 60  size(300,300); smooth(); background(255); noStroke(); fill(255,10,10);  int y = _____; while(_____){   ellipse(width/2,_____,10,10);   _____; }</pre>	
<pre>// 一番左上の正方形の左上頂点(50,50)  size(400,400); background(255); fill(128);  int topLeft = _____; while(_____){   rect(topLeft,topLeft,50,50);   _____; }</pre>	


<pre>// 正方形の一辺の長さは 40 ずつ減っている // 一番外側の色は(255,255,255) // 一番内側の色は(30,30,30) size(400,400); rectMode(_____); background(255); stroke(0); int len = 380; int gray = 255; while(gray &gt;= 30){   fill(_____);   rect(width/2,height/2,len,len);   len = len - _____;   gray = _____; }</pre>	
<pre>// 一番左側の円の色は fill(40) // 一番右側の円の色は fill(220) // 一番右端の円の中心座標(200,height/2) // 円の中心同士の間隔は 20 size(300,300); smooth(); background(255); stroke(0); int x = _____; int gray = _____; while(_____){   fill(_____);   ellipse(_____,_____,10,10);   _____;   _____; }</pre>	
<pre>// 円の直径は 15、左上端の円の中心の座標は(10,10) //円の中心の間隔は、縦横とも 20 size(400,400); smooth(); background(255); fill(0); int x=10; while(x &lt; width){   int y = _____;   while(_____){     ellipse(x,y,15,15);     y = _____;   }   x = _____; }</pre>	
<pre>// 左側の色は 0、右に行くに従って 10 ずつ増える // 円の直径は 16、左上端の円の中心座標は(10,10) // 円の中心の間隔は、縦横とも 20 size(400,400); smooth();</pre>	

<pre>background(255); int x = _____; int gray = _____; while(_____){   fill(gray);   int y = _____;   while(_____){     ellipse(x,y,16,16);     y = _____;   }   x = _____;   gray = _____; }</pre>	
---	--


3. 次の表は RGB と HSB を用いて色情報をあらわしたものである。空欄を埋めて表を完成させよ。

色名	R	G	B	H	S	B
	255	0	0			
	0	255	0			
	0	0	255			
	255	255	0			
	255	0	255			
				179	99	99
				0	0	0
				0	0	99
	129	64	64			
	77	77	77			

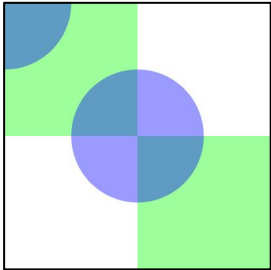
4. 次のプログラムは、色相の値が mouseX、彩度の値が mouseY、明度の値が 99 となる色でウィンドウを塗りつぶすものである。空欄を埋めて、プログラムを完成させよ。

<p style="text-align: center;">プログラム</p> <pre>void setup(){   size(360,100);   colorMode(_____,359,99,99);   noStroke(); } void draw(){   fill(_____,_____,____);   rect(0,0,_____,____); }</pre>	<p style="text-align: center;">表示</p> 
---	--


5. 目コピ問題：次のプログラムは、一辺の長さが 50 の青ぼい色の長方形をランダムに描くものである。空欄を埋めて、プログラムを完成させよ。色の指定は HSB を利用している。

プログラム	表示
<pre>void setup(){   size(400,400);   noStroke();   colorMode(_____,359,_____,_____); } void draw(){   fill(_____,random(50,100),random(50,100));   rect(random(width),random(height),50,50); }</pre>	

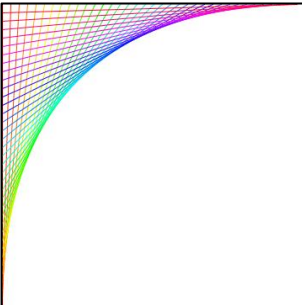
6. 目コピ問題：下図のように表示するプログラムを作成せよ。HSB での色指定を行っており、正方形の色は緑、円の色は青色、背景は白です。色指定の際に、不透明度を 100 に設定している。

プログラム	表示
<pre>size(400,400); smooth(); colorMode(_____,359,99,99); background(_____,_____,_____); noStroke(); fill(_____,_____,_____,_____); rect(0,0,width/2,height/2); rect(width/2,height/2,width/2,height/2); fill(_____,_____,_____,_____); ellipse(0,0,width/2,height/2); ellipse(width/2,height/2,width/2,height/2);</pre>	


7. 目コピ問題：下図のように表示するプログラムを作成せよ。色指定の際に、不透明度も設定しています。縦横の帯の幅は 60 となっている。

プログラム	表示
<pre>size(420,420); noStroke(); background(234,27,9); fill(120,10,10,_____); int pos = 60; while(_____) {   rect(0,pos,width,60);   rect(pos,0,60,height);   pos = _____; }</pre>	

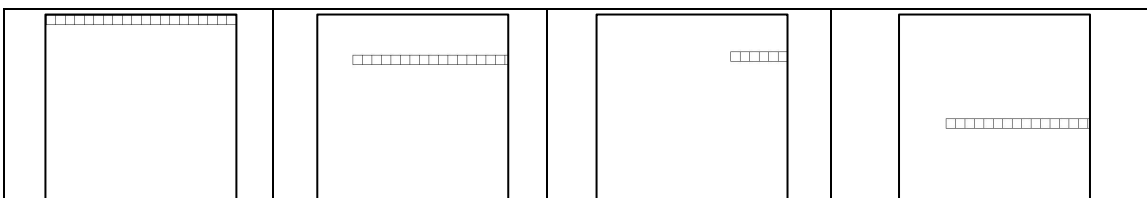
8. 目コピ問題：下図のように表示するプログラムを作成せよ。色を変えながら、`line(0,0,0,360)`、`line(10,0,0,350)`、…と 10 ずつ変わりながら繰り返しを行っている。色相の値も 10 ずつ増加している。

プログラム	表示
<pre> size(360,360); // 色相の値の範囲に合わせて 360 となっている colorMode(HSB,359,99,99); smooth(); background(0,0,99); int h = 0; while(____){   stroke(h,99,99);   line(____,____,____,____);   h = h+____; } </pre>	

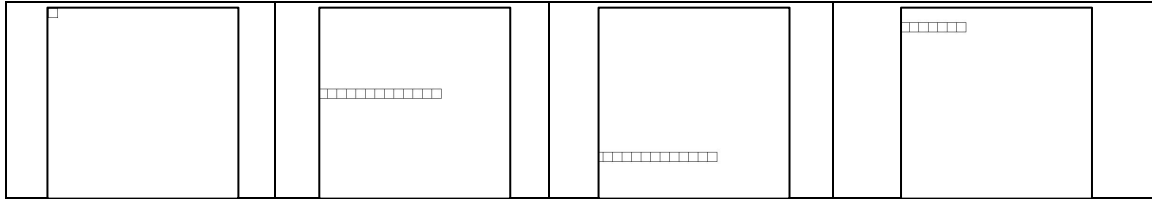
9. 目コピ問題：下図のように表示するプログラムを作成せよ。それぞれの線の間隔は乱数を使い 5 以上 10 未満となっている。線の色は、青色系で、彩度と明度は乱数により 50 以上 100 未満に設定している。

プログラム	表示
<pre> size(400,400); colorMode(HSB,359,99,99); background(____,____,____); ____ y=random(10); while(____){   stroke(239,____,____);   line(0,y,width,y);   y = y+____; } </pre>	


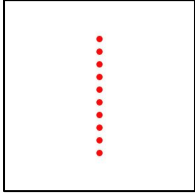
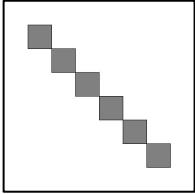
10. 目コピ問題：下図のように連続して正方形を描き、はしご状の形を表示するプログラムを作成せよ。はしご状の形はマウスカーソルの右方向に延び、マウスカーソルの動きに従って移動する。



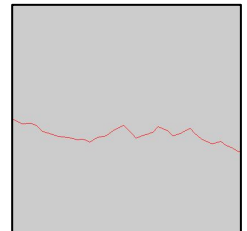
11. 目コピ問題：次図のように連続して正方形を描き、はしご状の形状を表示するプログラムを作成せよ。はしご状の形はマウスカーソルの左方向に延び、マウスカーソルの動きに従って移動する。



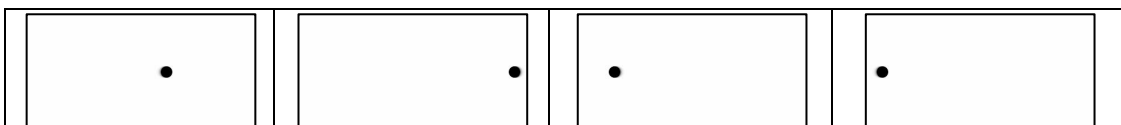
12. 右欄の実行結果のように表示されるように左欄のプログラムの空欄を埋めよ。プログラムを間違える（文法的には正しくても）とうまく動作しないことがある。

未完成プログラム	実行結果
<pre>// 線の間隔は 10、左端の直線の両端の X 座標は 5 size(200,200); background(255); stroke(255,10,10); for(int x=_____;_____;_____) {   line(x,0,x,height); }</pre>	
<pre>// 円の間隔は 20、一番上の円の中心の Y 座標は 60 size(300,300); smooth(); background(255); noStroke(); fill(255,10,10); for(int y=_____;_____;_____) {   ellipse(width/2,y,10,10); }</pre>	
<pre>// 一番左上の正方形の左上頂点(50,50) size(400,400); background(255); fill(128); for(int pos=_____;_____;_____) {   rect(pos,pos,50,50); }</pre>	

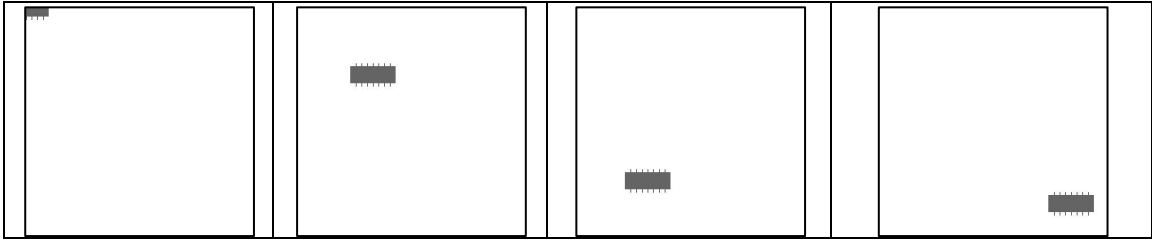
13. 目コピ問題：右側の実行例は、サンプル 4-27（15 ページ）では、折れ線の各点の X 軸方向の増加は一定の値 10 となっている。そこで、X 軸方向に増加の値を 5 以上 20 未満の乱数としたプログラムを作成すること。



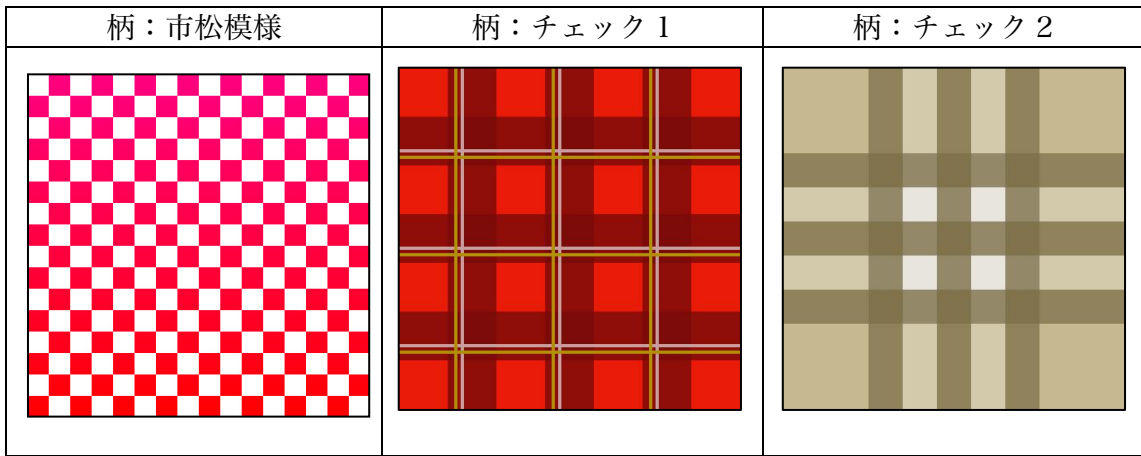
14. 目コピ問題：下図のように、円が残像を残しながら左右に移動するプログラムを作成せよ。




15. 目コピ問題：下の図のように、マウスカーソルの動きにあわせて動くようなプログラムを作成せよ。ちょっと足がはえた IC のような形である。




16. 目コピ問題：図のように表示するプログラムを作成せよ。なお、柄：市松模様では、色がピンク色から赤色に変化している。



17. 目コピ問題：下図のように、円が移動するプログラムを作成せよ。このプログラムでは、左右の壁にぶつかる時、円の色はランダムに変わり、背景色は変わる前の円の色となるようになっている。




18. 下図のように、ウインドウに幅が 10 の長方形を描き、左から順番に 1,2,3,...と番号をつける。マウスカーソルが、3 の倍数の番号の長方形上にいるときには、その長方形を赤色、5 の倍数の番号の長方形上にいるときには、その長方形を緑色、15 の倍数の長方形上にいるときには、その長方形を青色で描くようなプログラムを作成すること。



## 宿題

宿題はレポートとして 5 月 24 日（金）の授業の時に、提出して下さい。提出するレポートの表紙には、科目名、学籍番号、氏名、提出日、提出先（担当の先生の名前）レポート内容の概要を記載して下さい。

1. while 命令を使用して、下のような実行例と同じになるようなプログラムを作成せよ。



2. 下の実行例は、マウスカーソルの X 座標を利用して、円を塗りつぶす色の色相を決めているプログラムである。マウスカーソルが一番左にあるときには色相が 0、一番右にあるときには色相が 359 となる。

